

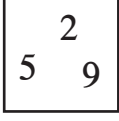
10. 18 பூக்களில் $\frac{1}{2}$ எத்தனை?

1) 10

2) 6

3) 9

02.



இவ் இலக்கங்களைக் கொண்டு விடை எழுதுக.

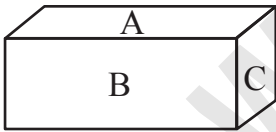
- 1) i. இவ்விலக்கங்களைக் கொண்டு ஆக்கக்கூடிய மிகப் பெரிய எண்ணை எழுதுக.
- ii. இவ்விலக்கங்களைக் கொண்டு ஆக்கக்கூடிய ஆகச் சிறிய எண்ணை எழுதுக.

613

இவ் எண்ணைக் கொண்டு விடை எழுதுக.

- 2) i. இவ் எண்ணில் நூறினிடத்து வரும் இலக்கம் எது?
- ii. இவ் எண்ணில் இலக்கம் 3 இன் இடப் பெறுமானம் என்ன?
- iii. இவ் எண்ணில் இலக்கம் 6 இல் எத்தனை நூறுகள் உண்டு
- iv. இவ் எண்ணை கீழ்வரும் எண் சட்டத்தில் இட்டுக் காட்டுக.

03.



இவ்வுருவைக் கொண்டு விடை எழுதுக.

- 1) இத்திண்ம உருவின் பெயரை எழுதுக.
.....
- 2) எழுத்து B காட்டும் தோற்றம் என்ன?
.....
- 3) எழுத்து C காட்டும் தோற்றம் என்ன?
.....
- 4) திட்டத்தைக் காட்டும் ஆங்கில எழுத்து எது?
.....

04. 1) கூட்டல்

i.
$$\begin{array}{r} 4 \ 5 \ 3 \\ + 2 \ 3 \ 4 \\ \hline \end{array}$$

ii.
$$\begin{array}{r} 5 \ 1 \ 6 \\ + 3 \ 6 \ 6 \\ \hline \end{array}$$

iii. $42 + 197 =$

iv. ஒரு பழக்கூடையில் 480 தோடம்பழங்களும் 168 மாம்பழங்களும் உள்ள பழங்களின் மொத்த எண்ணிக்கையைக் காண்க.

.....

2) கழித்தல்

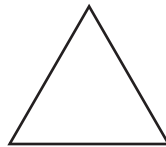

i.
$$\begin{array}{r} 3 \ 9 \\ - 1 \ 5 \\ \hline \end{array}$$

ii.
$$\begin{array}{r} 9 \ 4 \\ - 4 \ 2 \\ \hline \end{array}$$

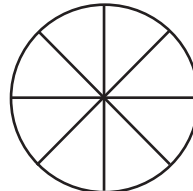

iii. $89 - 42 =$

iv. ஒரு கிளையில் 34 பூக்கள் மலர்ந்திருந்தன. அவற்றில் 24 பூக்களைப் பறித் தெடுத்தால் கிளையில் எஞ்சியிருக்கும் பூக்களின் எண்ணிக்கை யாது?

05. 1) i. பின்வரும் உருக்களில் அரைப் பங்கை நிழற்றுக.



ii. காற் பங்கை நிழற்றுக.



2) பின்வரும் கோலங்களைப் பூரணப்படுத்துக.

i. 2, 6, 10,

ii. 94, 99, 104,

iii.,, 46, 56, 66

06. 1) பெருக்கல்

i. $\begin{array}{r} 32 \\ \times 2 \\ \hline \end{array}$

ii. $\begin{array}{r} 35 \\ \times 5 \\ \hline \end{array}$

iii. $10 \times 5 =$

$\begin{array}{r} \times 2 \\ \hline \end{array}$

$\begin{array}{r} \times 5 \\ \hline \end{array}$

iv. ஒரு பைக்கற்றில் 15 இனிப்புகள் உண்டு இவ்வாறான பத்து பைக்கற்றுக்களில் உள்ள இனிப்புகளின் எண்ணிக்கை யாது?

.....

2) சென்ரி மீற்றரில் காட்டுக.

i. 3 m =

ii. 17 m =

மீற்றரில் காட்டுக.

i. 600 cm =

ii. 1000 cm =

07. பின்வரும் வரைபைக் கொண்டு விடை எழுதுக.

6				
5		😊		
4	😊	😊		😊
3	😊	😊		😊
2	😊	😊		😊
1	😊	😊	😊	😊

கணிதம் தமிழ் சுற்றாடல் ஆங்கிலம்

1) கூடுதலாக விரும்பப்பட்ட பாடம் எது?

.....

2) மிகக் குறைவாக விரும்பப்பட்ட பாடம் எது?

3) சமமாக விரும்பப்பட்ட பாடங்கள் யாவை?

.....

4) சுற்றாடலை விட தமிழ் பாடத்தை எத்தனை பேர் கூடுதலாக விரும்புகின்றனர்?

5) எல்லாப் பாடங்களையும் விரும்பிய மொத்த மாணவர்கள் எத்தனை பேர்?